

14º ROTEIRO DE ATIVIDADES COMPLEMENTARES DE ESTUDO – COVID 19

ESCOLA MUNICIPAL GERALDA CHAVES TIRADENTES

PROFESSOR: ADRIANA REGINA

**COMPONENTES CURRICULARES: LÍNGUA PORTUGUESA, MATEMÁTICA E
PSICOMOTRICIDADE**

TURMA: SALA DE RECURSOS – 5º ANO

PERÍODO DE REALIZAÇÃO: 31/05 A 04/06

ALUNO (A): _____

Senhores pais e responsáveis

No roteiro a seguir estão as atividades e todas as orientações para sua execução. Tudo está descrito de forma simples. Mas se houver alguma dúvida podem entrar em contato comigo pelo *Whatsapp*, estarei à disposição para ajudar.

Seu filho deverá realizar todas as atividades **nas folhas impressas**. Cuidem-se e cuidem de sua família. Em breve tudo estará bem.

Um abraço,

Professora Adriana Regina

APRESENTAÇÃO DO PROFESSOR	OLÁ QUERIDO (A) ALUNO (A)! VOCÊ DEVERÁ OUVIR O ÁUDIO EXPLICATIVO QUE ESTÁ DISPONÍVEL EM NOSSO GRUPO PARA REALIZAR AS ATIVIDADES.
O QUE VOCÊ VAI ESTUDAR:	- LETRA MAIÚSCULA E MINÚSCULA - SITUAÇÃO PROBLEMA - PSICOMOTRICIDADE - PLANILHA DE LINHA
PARA QUE VAMOS ESTUDAR ESSES CONTEÚDOS?	- DISTINGUIR, COMO LEITOR, DIFERENTES TIPOS DE LETRAS - INTERAGIR TODAS AS VERTENTES DA MATEMÁTICA - TRABALHAR A COORDENAÇÃO MOTORA FINA - AUXILIAR NO DESENVOLVIMENTO DA COORDENAÇÃO MOTORA FINA E HABILIDADES MANUAIS
ATIVIDADE PARA REALIZAR ESSA ATIVIDADE VOCÊ PRECISARÁ DE ALGUNS MATERIAIS:	AS ATIVIDADES SERÃO REALIZADAS COM MATERIAL IMPRESSO, PROPOSTOS NOS ROTEIROS ENVIADOS PARA OS ALUNOS.

Situação Problema:

1º) Leia com bastante atenção e resolva as situações problemas abaixo. Veja o exemplo:

- a) O peão de Jeremias estava na casa 53. Ele jogou os dados e fez 12 pontos, para qual casa ele vai?

D	U
5	3
1	2
6	5

R: Jeremias vai para casa 65.



- b) Nathan fez 10 pontos e estava com o peão na casa 78. Em qual casa ele deve colocar o peão agora?

D	U

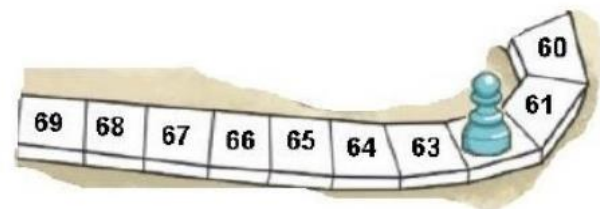
R: Ele deve colocar o peão na casa _____.



- c) Pedro fez 2 pontos e o peão foi para a casa 62. Em qual casa o peão estava antes?

D	U

R: O peão estava na casa _____.



- d) Maria fez 12 pontos e o peão estava na casa 77. Para qual casa o peão foi?

D	U

R: O peão foi para a casa _____.



- e) Letícia fez 11 pontos e o peão foi para a casa 68. Em qual casa o peão estava antes?

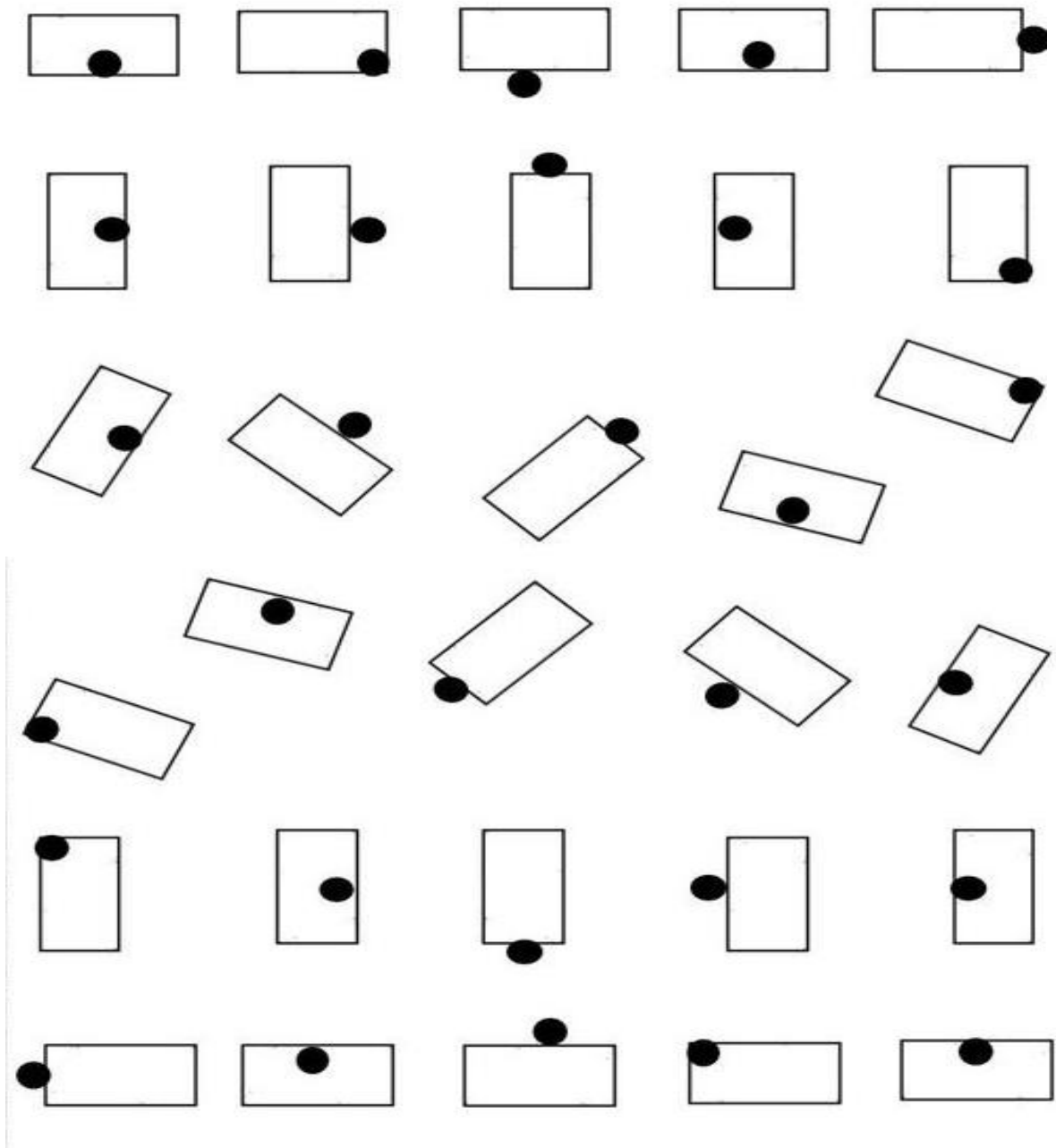
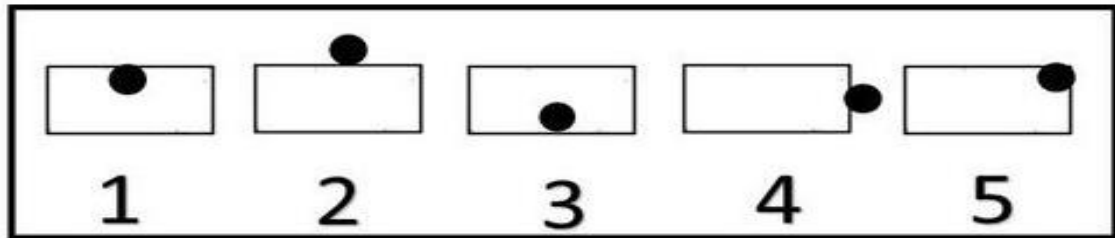
D	U

R: O peão estava antes na casa _____.



Psicomotricidade:

Coloque o número correspondente a cada figura:



Planilha de linha:

Siga a linha dos pontos continuando a flechinha indicada em cada círculo:

